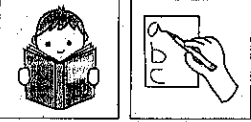


# Kapitel 4

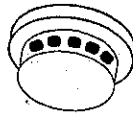
Finde eine Überschrift:



1 Nach welcher Leckerei roch die rosa Qualmwolke?

---

2 Welche Funktion hat ein Rauchmelder?




---

3 Was passiert mit dem ausgestopften Biber?

---

4 Notiere den ersten Satz, den der Biber spricht! Achte auf die Rechtschreibung!

---



---



---



---

5 Achtung digitale Apps bearbeiten! Auf Seite 43 sagt der Biber, er möchte gern nach Hause. Wo wohnt eigentlich so ein Biber?

---



---




---

6 Trage hier das Lösungswort aus der digitalen Lernapp „Lückentext“ ein!



7 Beschrifte den Biber, bearbeite aber erst die digitale Lernapp dazu!



Sven Začek, Vee poole - Začek, CC BY-SA 3,0

Lösungen: Nase, Nagezahn, Ohr, Vorderfuß, Weichholz, Auge, Fell



# Bundesländer-Quiz



→ Benutze deine Karte, um die Fragen zu beantworten.

## 1. Wie viele Bundesländer gibt es?

(Tipp: Beim Zählen die 3 kleinsten Länder nicht vergessen.)

Es gibt \_\_\_\_\_ Bundesländer.

## 2. Welche 3 Städte sind gleichzeitig Bundesländer?

\_\_\_\_\_

## 3. Von 5 Bundesländern aus kann man mit Hochseeschiffen ins Meer fahren. Welche sind es?

(Tipp: Die 2 kleinsten Länder zählen auch dazu.)



- ① \_\_\_\_\_
- ② \_\_\_\_\_
- ③ \_\_\_\_\_
- ④ \_\_\_\_\_
- ⑤ \_\_\_\_\_

## 4. Welche Bundesländer grenzen an

a) Polen

\_\_\_\_\_

\_\_\_\_\_

b) Niederlande

\_\_\_\_\_

\_\_\_\_\_

## 5. Über welche Bundesländer fliegst du?

(Tipp: Benutze ein Lineal, um die Flugstrecke zu erkennen.)



a) Bei einem direkten Flug von Düsseldorf nach Berlin?

Start in **Düsseldorf**: \_\_\_\_\_

über: \_\_\_\_\_

über: \_\_\_\_\_

über: \_\_\_\_\_

Landung in **Berlin**: \_\_\_\_\_

b) Bei einem direkten Flug von Stuttgart nach Kiel?

Start in **Stuttgart**: \_\_\_\_\_

über: \_\_\_\_\_

über: \_\_\_\_\_

über: \_\_\_\_\_

Landung in **Kiel**: \_\_\_\_\_

## 6. Ordne die Bundesländer nach Fläche und Einwohneranzahl.

Bundesland	Fläche in km <sup>2</sup>	Einwohner in Mio. (2015)
Baden- Württemberg	35 800	10,9
Bayern	70 600	12,8
Berlin	890	3,5
Brandenburg	29 700	2,5
Bremen	420	0,7
Hamburg	760	1,8
Hessen	21 100	6,2
Mecklenburg- Vorpommern	23 200	1,6
Niedersachsen	47 600	7,9
Nordrhein- Westfalen	34 100	17,8
Rheinland-Pfalz	19 900	4,0
Saarland	2 600	1,0
Sachsen	18 400	4,1
Sachsen-Anhalt	20 500	2,2
Schleswig- Holstein	15 800	2,8
Thüringen	16 200	2,2

**M1 Bundesländer: Einwohner und Größe**

