


Den Satzgliedern auf der Spur

Satzglieder bestimmen (1)

Name: _____



Nummer: _____

1. Stelle jeden Satz zweimal um.

Rahme die Satzglieder wie im Beispiel ein. Arbeite sauber!

Herr Flott fährt mit seinem neuen Auto nach München.

Mit seinem neuen Auto fährt Herr Flott nach München.

Anna und Tina zelten heute im Garten.

Hund Waldi gräbt in Mamas Blumenbeet.

Im Freizeitpark fährt Kevin am liebsten mit der Achterbahn.

Opa trinkt genüsslich eine Tasse Kaffee auf dem Balkon.




Den Satzgliedern auf der Spur

Satzglieder bestimmen (2)

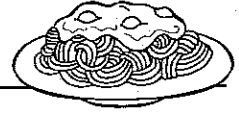
Name: _____

Nummer: _____



1. Stelle jedes Satzglied einmal an die Spitze des Satzes.
Markiere die Satzglieder wie im Beispiel.

Karin **isst** **heute** **Nudeln mit Tomatensoße.**



Isst Karin heute Nudeln mit Tomatensoße?

Nudeln mit Tomatensoße isst heute Karin.

Heute isst Karin Nudeln mit Tomatensoße.

Karin isst Nudeln mit Tomatensoße heute.

Am Nachmittag scheint die Sonne vom Himmel.

Mit Buntstiften malt Marco ein Tierbild.

Die kleine Hexe verwandelt ihren Raben in eine Socke.



Geräte eines Computerarbeitsplatzes



Daten werden mit Hilfe der Tastatur **e**ingegeben, im Rechner **v**erarbeitet und am Monitor bzw. Drucker **a**usgegeben. Man spricht vom so genannten **_____**.

Benenne diese Computergeräte und ordne sie nach dem **EVA-Prinzip**.

_____geräte	_____geräte	_____geräte
	Zentraleinheit, bestehend aus Betriebssystem, Steuerwerk, Rechenwerk, Hauptspeicher	

Alle Geräte, die mit der Zentraleinheit verbunden sind, heißen **_____**, weil sie den Computer umgeben. Das Wort „Peripherie“ heißt Umgebung.

Lösungswörter
 EVA-Prinzip, Eingabegeräte, Digitalkamera, Scanner, Tastatur, Ausgabegeräte, Laufwerk, Kopfhörer, Joystick, Mikrofon, Laufwerk, Monitor, Lautsprecher, Maus, Verarbeitungsgeräte, Drucker, Peripheriegeräte