


Arbeitsplan von Freitag, den 15. Januar 2021


Arbeitsplan Freitag, 15. Januar 2021	Unterschrift Eltern
<p>Englisch</p> <p>Unit 3 – My free time</p> <p>1. Du brauchst dein Englisch-Übungsheft. Gestalte eine Mind-Map zum Thema „free time activities“.</p> <p style="text-align: center;"></p> <p>Du brauchst Hilfe?</p> <ul style="list-style-type: none">• Lies den Text im Buch auf den Seiten 48/49 nochmal.• Das Buch auf S.162 kann dir helfen. <p>2. Bearbeite im Englisch-Buch auf der Seite 49 die Aufgabe 3: My free time. Schreibe in dein Englisch-Übungsheft, was DU gerne in deiner Freizeit tust. Schreibe mindestens 4 Sätze. Die Satzanfänge helfen dir dabei.</p> <p><u>Wichtig! Nicht vergessen!</u> Schreibe das Datum und p. xx/nr.xy in dein Übungsheft.</p> <p>Sieh dir die Vokabeln von Unit 3 – Topic 1 im Buch auf der Seite 181/182 an.</p> <p>3. Schreibe die Vokabeln in dein Englisch-Vokabelheft (von <i>flea market time</i> bis <i>match</i>)</p> <p>4. Lerne die neuen Englisch-Vokabeln bis Montag. Du kannst dich von deinen Eltern oder <i>Geschwistern</i> abfragen lassen.</p>	
<p>Mathe</p> <p>1. Du kennst die Regel „Klammer vor Punkt vor Strich“. Erkläre kurz mit deinen eigenen Worten, was die Regel besagt.</p> <p>2. Bearbeite die folgenden Aufgaben im Mathebuch:</p> <ul style="list-style-type: none">• S. 95/ Nr. 6• S. 95/ Nr. 9 <p>Schreibe in dein hellblaues Mathe-Übungsheft.</p> <p><u>Wichtig! Nicht vergessen!</u> Schreibe das Datum und S. xy/Nr. xy in dein Übungsheft.</p>	
<p>Deutsch</p> <p>Wir über das richtige Trennen von Wörtern.</p> <p>➔ Übe in der Anton-App. Bearbeite bitte mindestens 2 Aufgaben zum Thema „Silbenschwingen“.</p>	

Hier geht's noch weiter! 😊



GPG	
<p>Ägypten und der Nil heute. Im Anhang findest du ein Arbeitsblatt für GPG.</p> <ol style="list-style-type: none"> 1. Lies dir den Text „Nahrungsbedarf für immer mehr Menschen“ genau durch. Der Textknacker kann dir dabei helfen. 2. Schreibe die Fragen vom Arbeitsblatt in dein GPG Heft. Suche die Antworten im Text und schreibe sie zu der jeweiligen Frage ins Heft. 3. Schau dir die Bilder unter dem Text genau an. Du hast bestimmt schon eine Idee, was mit diesen Bildern beschrieben wird. Wir sprechen darüber in der nächsten GPG Stunde. 	
Du hast etwas vergessen?	
<p style="text-align: center;">Hast du in den letzten Tagen ein Arbeitsblatt nicht geschafft zu bearbeiten? Hast du vergessen eine Aufgabe im Buch zu bearbeiten? Fehlt dir noch ein Hefteintrag? Hast du bisher nur wenig in der Anton-App gearbeitet?</p> <p>➔ Heute hast du die Möglichkeit, um etwas nachzuarbeiten. ➔ Bitte hole fehlende Aufgaben nach und sende sie mir als Foto zu.</p>	

Hier geht's noch weiter! 😊

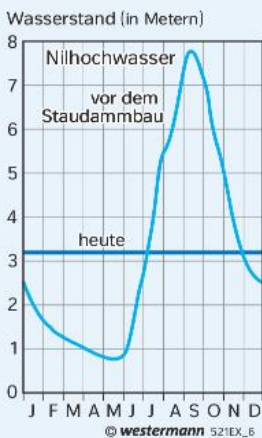


Ägypten und der Nil heute

Nachdem wir uns in den letzten Stunden mit der Geschichte Ägyptens beschäftigt haben, wollen wir heute etwas über das moderne Ägypten herausfinden.

Aufgabe 1:

Lies dir den Text „Nahrungsbedarf für immer mehr Menschen“ genau durch. Der Textknacker kann dir dabei helfen.



M1 Der Wasserstand des Nil (bei Luxor)



M3 Luftbild des Assuan-Hochstaudamms

Text zu Aufgabe 1

Nahrungsbedarf für immer mehr Menschen

Ägypten ist fast dreimal so groß wie Deutschland. Jedoch sind nur 36 000 km² der Landesfläche landwirtschaftlich nutzbar, das entspricht der Hälfte der Fläche von Bayern.

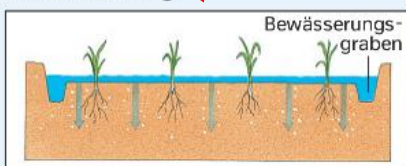
Es leben 94 Millionen Menschen in Ägypten und das Land hat seit Jahrzehnten ein starkes Bevölkerungswachstum. Daraus ergeben sich große Schwierigkeiten. Das

Land braucht für die Menschen Nahrungsmittel und Arbeitsplätze.

Um die Versorgung der Bevölkerung mit Nahrungsmitteln zu verbessern, baute die ägyptische Regierung den Assuan-Hochstaudamm. Dieses Projekt brachte dem damaligen Herrscher Sadd el-Ali sehr viel Anerkennung, wie schon der Pyramidenbau den Pharaonen.

Bilder zu Aufgabe 3

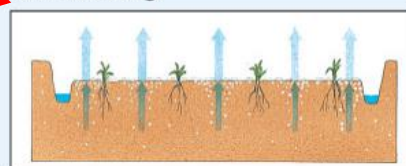
1. Bewässerung



Bewässerungswasser sickert in den Boden und löst Salze.

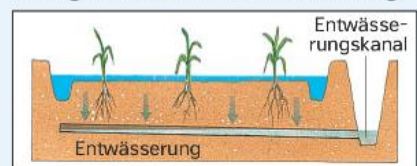
© westermann 816EX_6

2. Versalzung



Nach der Bewässerung verdunstet das Wasser. Salzkristalle lagern sich ab.

3. Gegenmaßnahme: Entwässerung



Die Salzkristalle werden in den Entwässerungsgraben gespült und von dort abgeleitet.

M2 Bodenversalzung durch Bewässerung

Aufgabe 2:

Schreibe folgende Fragen **in dein GPG Heft**.

Suche die **Antworten im Text** und schreibe sie zu der jeweiligen Frage **ins Heft**:

- Wie groß ist Ägypten?
- Wie viele Menschen leben in Ägypten?
- Weil sehr viele Menschen in Ägypten leben, gibt es zwei große Schwierigkeiten. Welche Schwierigkeiten sind das?
- Warum baute die Regierung von Ägypten den **Assuan-Staudamm**?

Dein GPG-Hefteintrag sollte dann so aussehen:

<p><u>Ägypten und der Nil heute</u> 15.01.2021 <u>„Nahrungsbedarf für immer mehr Menschen“</u></p> <ul style="list-style-type: none">• Wie groß ist Ägypten? <i>→ hier schreibst du deine Antwort, die du im Text findest.</i>• Wie viele Menschen leben in Ägypten? <i>→ hier schreibst du deine Antwort, die du im Text findest.</i>• Weil sehr viele Menschen in Ägypten leben, gibt es zwei große Schwierigkeiten. Welche Schwierigkeiten sind das? <i>→ hier schreibst du deine Antwort, die du im Text findest.</i>• Warum baute die Regierung von Ägypten den Assuan-Staudamm? <i>→ hier schreibst du deine Antwort, die du im Text findest.</i>
--

Aufgabe 3:

Schau dir die Bilder unter dem Text genau an. Du hast bestimmt schon eine Idee, was mit diesen Bildern beschrieben wird. Wir sprechen darüber in der nächsten GPG Stunde.